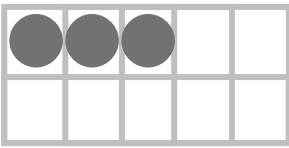


かず①

ことば

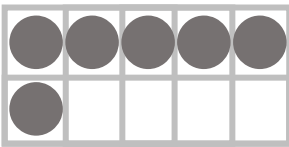
いち に さん し ご ろく しち はち きゅう じゅう

1 2 3 4 5 6 7 8 9 10
よん なな



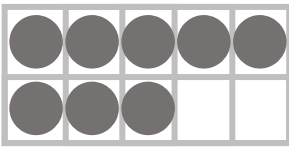
.

. ろく



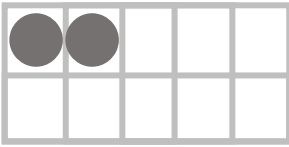
.

. しち (なな)



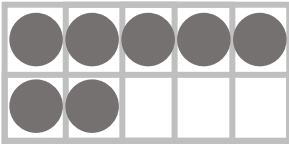
.

. に



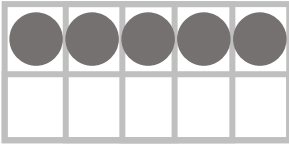
2 .

. さん



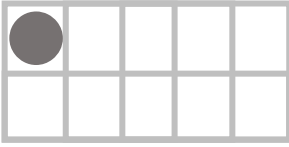
.

. いち




.

. はち



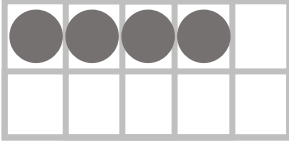
.

. し (よん)



.

. きゅう



.

. ご

かず②

ことば

いち に さん し ご ろく しち はち きゅう じゅう



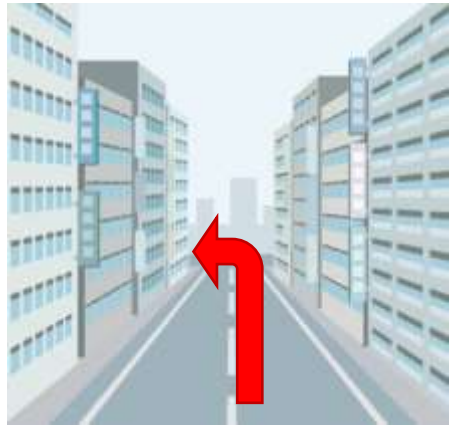




1 2 3 4 5 6 7 8 9 10
よん なな

- 7. ・ ろく ○○○○○○○○○○○
- 1. ・ しち(なな) ○○○○○○○○○○○
- 4. ・ さん ○○○○○○○○○○○
- 9. ・ に ●●○○○○○○○○○○
- 2. ・ いち ○○○○○○○○○○○
- 8. ・ はち ○○○○○○○○○○○
- 5. ・ し(よん) ○○○○○○○○○○○
- 3. ・ じゅう ○○○○○○○○○○○
- 6. ・ きゅう ○○○○○○○○○○○
- 7. ・ ご ○○○○○○○○○○○

なんばんめ①

どこ？※^{いち}位置をおぼえよう

まえ うしろ みぎ ひだり うえ した なか


うえ	した	
		
ひだり	まんなか	みぎ
		
まえ	うしろ	
		

なんばんめ②-1


※順序や位置を順序数で表そう

() から 〇 にんめ

まえから 3 にんめ



うしろから 4 にんめ



ひだりから ふたりめ



なんばんめ②-2

※順序や位置を順序数で表そう

() から〇ばんめ

みぎから3ばんめ




うえから3ばんめ

したから2ばんめ

うえ

うえ





した

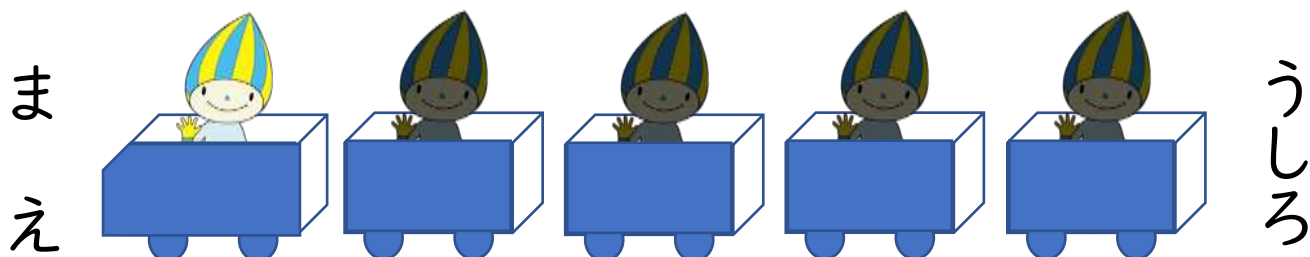
した

なんばんめ②-3

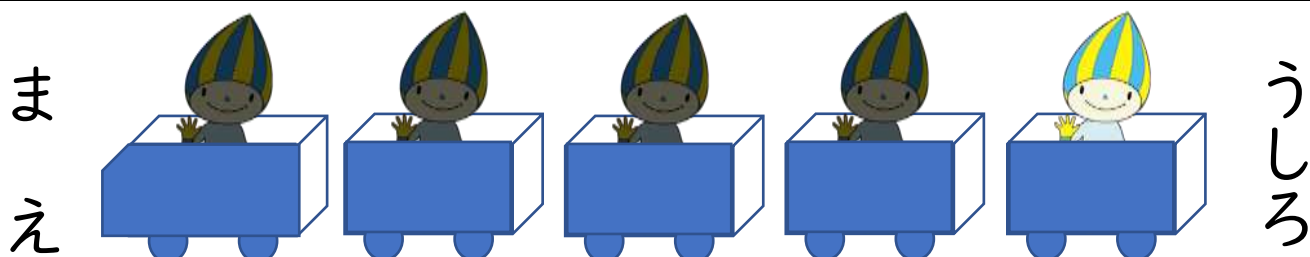
※順序や位置を順序数で表そう

いちばん ()

いちばんまえ



いちばんうしろ



いちばんひだり



まんなか



なんばんめ②-4 (練習用)

※順序や位置を順序数で表そう

いちばん ()

いちばん

ま

え



うしろ

いちばん

ま

え



うしろ

いちばん

ひだり



みぎ

ひだり



みぎ

なんばんめ②-5

※順序や位置を順序数で表そう

いちばん ()

いちばんみぎ

ひ
だ
り





み
ぎ

いちばんうえ

いちばんした

うえ

うえ



した

した

なんばんめ②-6 (練習用)

※順序や位置を順序数で表そう

いちばん ()

いちばん

ひ
だ
り



み
ぎ

いちばん

う
え

し
た

いちばん

う
え

し
た


なんばんめ③-1

※順序数と集合数の違い

() から () にん・だい・こ

まえから4にん

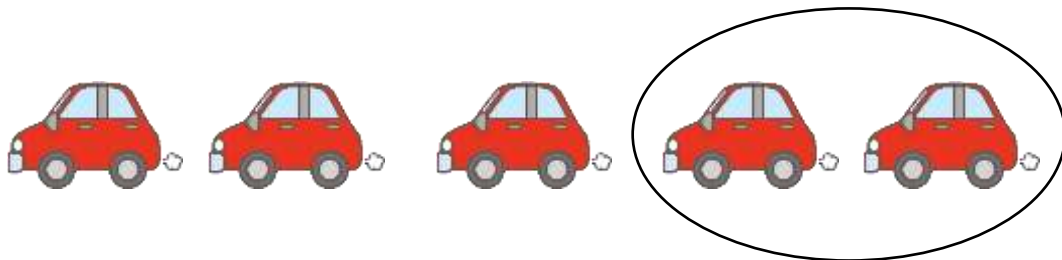
ま
え



う
し
ろ

うしろから2だい

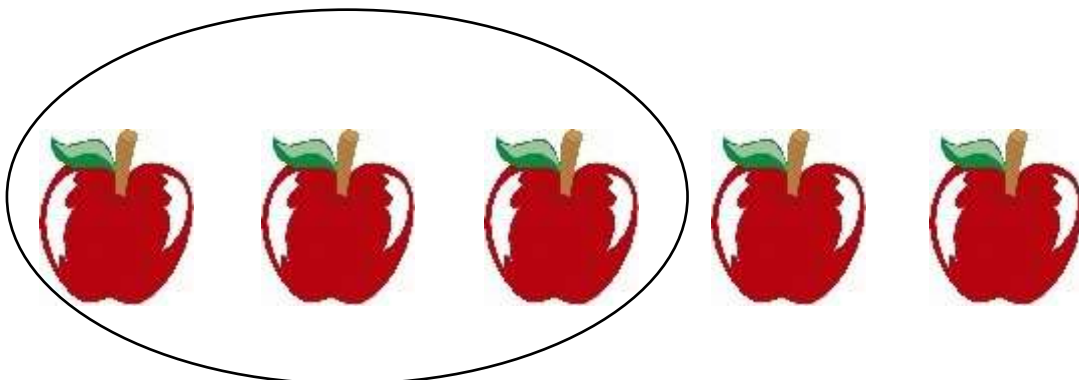
ま
え



う
し
ろ

ひだりから3こ

ひ
だ
り



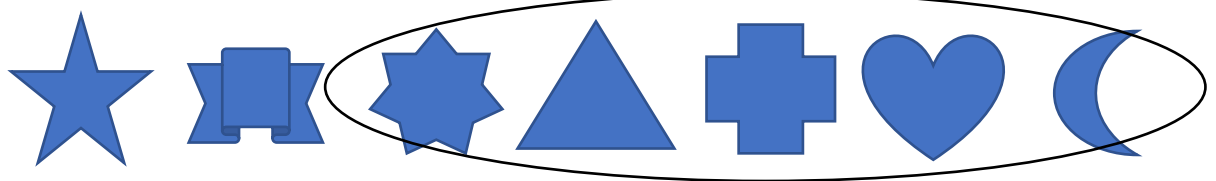
み
ぎ

なんばんめ③-2

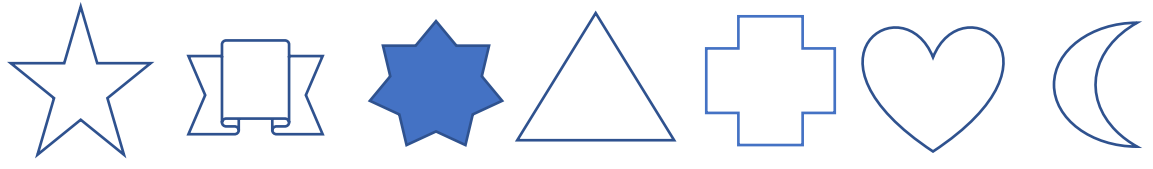
※順序数と集合数の違い

() から () つ、() つめ

みぎから5つ




みぎから5つめ



うえから3にん


うえ



した

うえから3にんめ

うえ



した

