

受験番号	氏名

令和5年度

クリーニング師試験学科問題


令和5年11月12日(日)

指示があるまで開いてはいけません

岐 阜 県

受 験 の 際 の 注 意 事 項

1. 試験問題は、「衛生法規に関する知識」、「公衆衛生に関する知識」、「洗たく物の処理に関する知識」の3科目で、全部で30問あります。
2. 試験問題は、表紙を除き15ページありますので確認してください。
3. 解答時間は1時間です。
4. はじめに、解答用紙の上欄に受験番号、氏名を記入してください。
5. 解答については、設問中の指示に従い、解答用紙に番号を記入してください。
6. 解答用紙は持ち帰らないでください。
7. 問題用紙は持ち帰ってもかまいません。ただし、問題に関する問い合わせには一切お答えできません。



衛生法規に関する知識

1 次のクリーニング業法に規定する定義に関する記述のうち、正しいものを1つ選びなさい。

- ① 「営業者」とはクリーニング業を営む者（洗たくをしないで洗たく物の受取及び引渡しをすることを営業とする者は含まない。）をいう。
- ② 「クリーニング所」とは、洗たく物を処理する施設のみをいう。
- ③ 「クリーニング師」とは、クリーニング業法第6条に規定する免許を受けた者をいう。

2 次のクリーニング業法に規定する営業者の衛生措置等に関する記述のうち、誤っているものを1つ選びなさい。

- ① 営業者は、クリーニング所以外において、営業として洗たく物の処理を行い、又は行わせてはならないが、仕上げのみの軽微な作業は、クリーニング所以外でも行うことができる。
- ② 洗場については、床が、不浸透性材料で築造され、これに適当な勾配と排水口が設けられている必要がある。
- ③ 伝染性の疾病の病原体による汚染のおそれのあるものとして厚生労働省令で指定する洗濯物を取り扱う場合においては、その洗濯物は他の洗濯物と区分しておき、これを洗濯するときは、その前に消毒する必要があるが、洗濯が消毒の効果を有する方法によってなされる場合は、消毒しなくてもよい。

3 次のクリーニング業法に規定するクリーニング業の定義に関する記述について、の中に入る語句の組み合わせとして、正しいものを1つ選びなさい。

この法律で「クリーニング業」とは、 (ア) を使用して、衣類その他の繊維製品又は (イ) を (ウ) 洗たくすること（繊維製品を使用させるために貸与し、その使用済み後はこれを回収して洗たくし、さらにこれを貸与することを繰り返して行なうことを含む。）を営業とすることをいう。

- | | (ア) | (イ) | (ウ) |
|---|-----------|----------|-------|
| ① | 溶剤又は洗剤 | 皮革製品 | 原型のまま |
| ② | 溶剤又は洗剤 | プラスチック製品 | 分解して |
| ③ | 洗たく機及び脱水機 | 皮革製品 | 原型のまま |

4 次のクリーニング業法に規定する利用者に対する説明義務等に関する記述のうち、誤っているものを1つ選びなさい。

- ① 営業者は、洗濯物の受取及び引渡しをしようとするときは、あらかじめ、利用者に対し、洗濯物の処理方法等について説明するよう努めなければならない。
- ② クリーニング所においては、苦情の申出先となるクリーニング所の名称、所在地及び電話番号を店頭に掲示しておくとともに、洗たく物の受取及び引渡しをしようとする際に、当該掲示事項を記載した書面を配布しなければならない。
- ③ 営業者は、利用者に対し、クリーニング料金の単価とクリーニングにかかる時間を示さなければならない。

5 次のクリーニング業法に規定する営業者の届出に関する記述のうち、誤っているものを1つ選びなさい。

- ① クリーニング所を開設しないで洗濯物の受取及び引渡しをすることを営業しようとする者は、あらかじめ都道府県知事に届け出なければならない。
- ② クリーニング所を開設しようとする者は、あらかじめ都道府県知事に届け出なければならない。
- ③ クリーニング所を廃止するときは、あらかじめ都道府県知事に届け出なければならない。

6 次のクリーニング業法に規定するクリーニング師の免許に関する記述のうち、誤っているものを1つ選びなさい。

- ① 免許の取消処分を受けた者は、十日以内に免許証を免許を与えた都道府県知事に返納しなければならない。
- ② クリーニング師が死亡し、又は失そのの宣言を受けたときは、戸籍法に規定する届出義務者は、一月以内に免許証を免許を与えた都道府県知事に返納しなければならない。
- ③ クリーニング師が免許証を失ったときは、一月以内に免許を与えた都道府県知事に再交付の申請をしなければならない。

7 次のクリーニング業法に規定するクリーニング師の研修及び業務従事者に対する講習に関する記述のうち、正しいものを1つ選びなさい。

- ① クリーニング所の業務に従事するクリーニング師は、業務に従事した後二年以内に都道府県知事が指定したクリーニング師の資質の向上を図るための研修を受けなければならない。
- ② 営業者は、そのクリーニング所の業務に従事するクリーニング師に対し、都道府県知事が指定した研修を受ける機会を与えなければならない。
- ③ 営業者は、クリーニング所の営業開始の日から一年以内に従事者の数に五分の一を乗じて得た数の者を選び、その者に対して講習を受けさせる必要があるが、無店舗取次店にあってはその必要はない。

8 次のクリーニング業法に規定する都道府県知事の処分に関する記述のうち、正しいものを1つ選びなさい。

- ① 洗濯物の処理又は受取及び引渡しの業務に従事するものが伝染性の疾病にかかり、その就業が公衆衛生上不相当と認めるときは、区域を定めてその業務を停止することができる。
- ② 営業者が洗濯物をその用途に応じ区分して処理していないと認めるときは、期間を定めてクリーニング所の閉鎖を命じなければならない。
- ③ クリーニング師がクリーニング業に関し犯罪を犯して罰金以上の刑に処せられたときは、その免許を取り消すことができる。

9 次のうち、クリーニング業法に規定する都道府県に備えるクリーニング師原簿の登録事項に関する事項として、誤っているものを1つ選びなさい。

- ① 住所及び氏名
- ② 登録抹消の年月日及びその事由
- ③ 登録番号及び登録年月日

10 次のクリーニング業法に規定するクリーニング師の設置に関する記述のうち、正しいものを1つ選びなさい。

- ① 営業者は、クリーニング所に二人以上のクリーニング師がいる場合、管理クリーニング師を選任する必要がある。
- ② 営業者がクリーニング師である場合においても、営業者以外にもう一人クリーニング師を置かなければならない。
- ③ 洗たく物の受取および引渡しのみを行うクリーニング所には、クリーニング師を置く必要はない。

公衆衛生に関する知識

1 次のうち、WHO（世界保健機関）憲章の記述として、正しいものを1つ 選びなさい。

- ① 健康とは、肉体的、精神的及び社会的に完全によい状態にあることであり、単に疾病又は虚弱でないということではない。
- ② すべて国民は、健康で文化的な最低限度の生活を営む権利を有する。
- ③ 国は、すべての生活部面について、社会福祉、社会保障及び公衆衛生の向上及び増進に努めなければならない。

2 次のノロウイルスに関する記述のうち、誤っているものを1つ 選びなさい。

- ① 令和4年における病因物質別の食中毒患者数が第1位である。
- ② 感染経路のほとんどが空気感染である。
- ③ 熱水洗濯や次亜塩素酸ナトリウムの消毒が有効である。

3 次のインフルエンザの予防に関する記述のうち、誤っているものを1つ選びなさい。

- ① 部屋をできるだけ乾燥させ、湿度を20%程度に保つようにする。
- ② 十分な休養とバランスのとれた栄養摂取を心掛ける。
- ③ 流行前にワクチンを接種し、発症しても重い症状になるのを防ぐ。

4 次のドライクリーニング溶剤に関する記述のうち、正しいものを1つ選びなさい。

- ① ドライクリーニングに使用する石油系溶剤はVOC（揮発性有機化合物）に該当するが、テトラクロロエチレンはVOCには該当しない。
- ② 水質汚濁防止法の規定では、テトラクロロエチレンを使用するドライクリーニング機の床面及び周囲には、必ず防波堤又はステンレス鋼の受け皿を設ける必要がある。
- ③ テトラクロロエチレンや石油系溶剤などを含む廃油等の廃棄物は、その含有濃度や引火性によっては特別管理産業廃棄物に分類される場合がある。

5 次のSDGs（持続可能な開発目標）に関する記述のうち、誤っているものを1つ選びなさい。

- ① 国連の「持続可能な開発サミット」で採択された国連が主導する取組みである。
- ② SDGsには、目標未達による罰則がある。
- ③ プラスチックハンガーのリサイクルはSDGsと深く関係している。

6 次の皮膚疾患とその原因の組み合わせとして、正しいものを1つ選びなさい。

- | (皮膚疾患) | | (原因) |
|--------------|---|-----------|
| ① 頭部白癬（しらくも） | — | ウイルスによるもの |
| ② 疥癬 | — | ダニによるもの |
| ③ 帯状疱疹 | — | 真菌によるもの |

7 次の消毒に関する記述のうち、正しいものを1つ選びなさい。

- ① 消毒とは、すべての微生物を死滅させることをいう。
- ② クリーニング所における消毒方法のうち、蒸気による消毒条件は、100℃以上の蒸気に1分間触れさせることである。
- ③ クリーニング業において、消毒の方法には高熱処理法と消毒剤処理法とがある。

8 次のうち、地域保健法で定められている保健所の業務として、誤っているものを1つ選びなさい。

- ① 生活保護及び児童福祉に関する事項
- ② 衛生上の試験及び検査に関する事項
- ③ 医事及び薬事に関する事項

9 次のうち、衣類の害虫に該当するものを1つ選びなさい。

- ① ツツガムシ
- ② コクゾウムシ
- ③ コイガ

10 次のうち、令和4年の人口動態統計による第2位の死因として、正しいものを1つ選びなさい。

- ① 心疾患
- ② 悪性新生物（腫瘍）
- ③ 脳血管疾患

洗たく物の処理に関する知識

1 次の麻の特徴に関する記述のうち、誤っているものを1つ選びなさい。

- ① 手触りは硬く、吸湿性があるためサラッとしてべとつかない。
- ② 麻のニット製品は、縦方向が収縮し、横方向に伸びやすく、全体に形態変化を起こしやすい。
- ③ 濃色に染まりやすく、一度染まると脱色しにくい。

2 次の染色に関する記述のうち、正しいものを1つ選びなさい。

- ① 染料とは、水などに溶解もしくは分散し、繊維に吸着して実用的な染色堅ろう度が得られるものをいい、繊維の種類による染め上がりに差はない。
- ② 浸染とは、染料を溶かした水の中に染める物を浸して全体に着色することをいう。
- ③ 顔料による染色は、テトラクロロエチレンによるドライクリーニングで染色に使用する樹脂が溶脱しにくい。

3 次の繊維加工に関する記述のうち、誤っているものを1つ選びなさい。

- ① 減量加工（アルカリ減量加工）とは、ポリエステルを水酸化ナトリウムの熱水溶液に浸漬して、繊維表面の組織を一部溶解して除き、繊維製品の風合いを改善する加工である。
- ② 酵素処理（バイオウォッシュ加工）とは、綿製品などの風合い改良を目的に酵素のセルラーゼを使用する加工である。
- ③ プリーツ加工とは、ポリエステルの細いマイクロファイバーなど合成繊維を用いた織編物の表面を軽く起毛し、ソフトでサラッとした感触とする加工である。

4 次の繊維素材に関する記述のうち、正しいものを1つ選びなさい。

- ① ナイロンは、ポリアミド系合成繊維の一般名であり、世界最初の合成繊維である。
- ② ポリエステルは、耐熱性がナイロンやアクリルよりも劣っている。
- ③ アクリルは、一般にスパンデックスともいわれ、ゴムのように6倍以上もよく伸び大きな伸縮回復力のある弾性繊維である。

5 次のシミに関する記述のうち、誤っているものを1つ選びなさい。

- ① シミ抜きでは、付着しているシミが何であるかを判別し、それに基づいて使用するシミ抜き剤を選択することが理想である。
- ② 水溶性のシミは、霧吹きで霧をかけると、シミよりも生地の方が水分を早く吸収する。
- ③ シミ抜きは、油性処理、水溶性処理、酵素処理、酸化漂白処理、還元漂白処理の順に処理を進め、処理の効果が認められるものについては、その処理を徹底して行うようにする。

6 次のドライクリーニング溶剤に関する記述のうち、正しいものを1つ選びなさい。

- ① チャージシステムとは、あらかじめドライ溶剤にドライソープを添加しておいて洗う方法であり、ソープ濃度はおよそ15%を用いるのが普通である。
- ② 石油系溶剤は、油脂溶解力が大きく、揮発しやすいので、短時間で洗浄、乾燥ができ、生産性が高い。
- ③ 溶剤の特性とドライクリーニング適性との関係のうち、蒸気圧が大きいほど低温で蒸発乾燥できる。

7 次の和服のクリーニングに関する記述について、の中に入る語句の組み合わせとして、正しいものを1つ選びなさい。

(ア) とは、汚れの部分をブラッシングしたのち、 (イ) で着物全体を浸漬して洗う方法である。乾燥はハンガーに掛け立体乾燥で、 (ウ) で行う。

- | | (ア) | (イ) | (ウ) |
|---|-----|-------|-----|
| ① | 丸洗い | 石油系溶剤 | 低温 |
| ② | 丸洗い | 塩素系溶剤 | 低温 |
| ③ | 生洗い | 塩素系溶剤 | 高温 |


8 次の汚れの種類に関する記述のうち、正しいものを1つ選びなさい。


- ① 水溶性の汚れは、泥、汗、尿などが該当する。
- ② 油性の汚れは、油脂、化粧品、ペンキなどが該当する。
- ③ 不溶性の汚れは、金属粉、墨汁、たんぱく質などが該当する。

9 次のボタンに関する記述のうち、正しいものを1つ選びなさい。

- ① カゼインボタンは、ポリアミド系樹脂を原料にしたプラスチックボタンであり、耐薬品性、耐溶剤性ともに高い。
- ② ユリアボタンは、真鍮を原料にプレス、切削加工によって作られるボタンである。
- ③ アクリルボタンは、パールボタンと呼ばれるものもあり、衝撃に強く、透明感と、光沢があるが、耐熱性は低い。

10 次の「JIS L 0001」に規定する表示記号とその意味の組み合わせのうち、誤っているものを1つ選びなさい。

	表示記号	意味
①		底面温度 200℃を限度としてアイロン仕上げ処理ができる。
②		平干し乾燥がよい。
③		液温は、40℃を限界とし、手洗いによる洗濯処理ができる。



令和5年度クリーニング師試験(学科)

解答用紙

受験番号	
------	--

氏名	
----	--

衛生法規に関する知識

公衆衛生に関する知識

洗たく物の処理に関する知識

1	③
2	①
3	①
4	③
5	③
6	①
7	②
8	③
9	①
10	③

各1点

1	①
2	②
3	①
4	③
5	②
6	②
7	③
8	①
9	③
10	①

各1点

1	③
2	②
3	③
4	①
5	②
6	③
7	①
8	②
9	③
10	②

各1点

1問1点 30問30点満点

令和5年度クリーニング師試験問題及び解答用紙（繊維鑑別試験）

受験番号	氏名

番号のついた繊維について、下の選択欄から正しいものを選びその名称を記入しなさい。

<解答欄> 1問1点 5問5点満点

1	2	3	4	5
綿	ポリエステル	絹	キュプラ	ナイロン

<選択欄>

ポリエステル	絹	ナイロン	
アクリル	綿	キュプラ	毛

布片貼付け位置

※アイロンがけ試験は 40 点満点です。

