

第2章

わたしのまちの こう ぼう グラフ工房

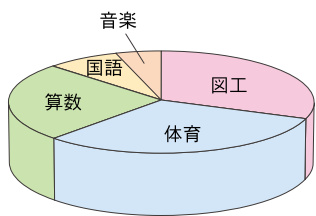


グラフで表すと、データでみた地域のうつり変わりが、わかりやすくなります。人口や面積のデータを使って、あなたがくらす市町村の様子をグラフで表してみましょう。

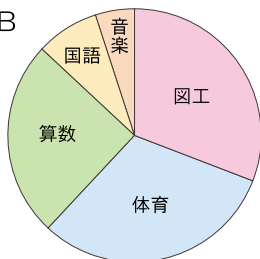
正しく伝わるグラフはどっち？

Q1 4年生の100人に、好きな教科が何かを聞いて円グラフにした。

グラフA



グラフB



好きな教科	人数
図工	31人
体育	31人
算数	25人
国語	8人
音楽	5人

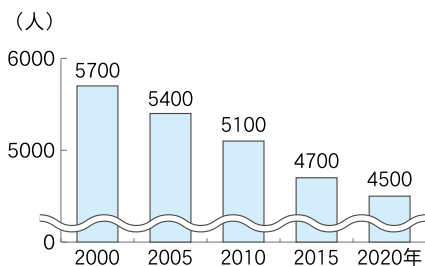
ヒント

グラフAだと、
体育が好きな人が
一番多く見えるね。

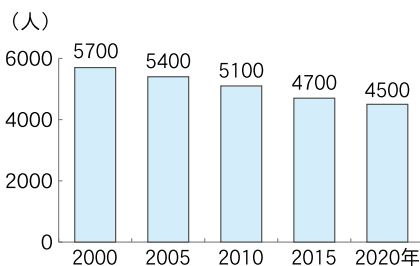


Q2 ○○町の人口のうつり変わりを棒グラフで表した。

グラフA



グラフB



ヒント

グラフAだと、
20年間で人口が
半分以下になった
ように見えるね。

