

受験番号	氏名

令和4年度

クリーニング師試験学科問題


令和4年11月20日(日)

指示があるまで開いてはいけません

岐 阜 県

受 験 の 際 の 注 意 事 項

1. 試験問題は、「衛生法規に関する知識」、「公衆衛生に関する知識」、「洗たく物の処理に関する知識」の3科目で、全部で30問あります。
2. 試験問題は、表紙を除き15ページありますので確認してください。
3. 解答時間は1時間です。
4. はじめに、解答用紙の上欄に受験番号、氏名を記入してください。
5. 解答については、設問中の指示に従い、解答用紙に番号を記入してください。
6. 解答用紙は持ち帰らないでください。
7. 問題用紙は持ち帰ってもかまいません。ただし、問題に関する問い合わせには一切お答えできません。



衛生法規に関する知識

- 1 次のクリーニング業法に規定するクリーニング業法の目的に関する記述について、の中に入る語句の組み合わせとして、正しいものを1つ選びなさい。

この法律は、クリーニング業に対して、 (ア) 等の見地から必要な (イ) を行い、もってその経営を公共の福祉に適合させるとともに、利用者の (ウ) を図ることを目的とする。

	(ア)	(イ)	(ウ)
①	公衆衛生	技術的支援	生活の向上
②	営業者の保護	指導及び取締り	生活の向上
③	公衆衛生	指導及び取締り	利益の擁護

- 2 次のクリーニング業法に規定する営業者の衛生措置等に関する記述のうち、誤っているものを1つ選びなさい。

- ① 洗濯物をその用途に応じ区分して処理する必要がある。
- ② 営業者は、クリーニング所以外においても、営業として洗濯物の処理を行ってよい。
- ③ 伝染性の疾病の病原体による汚染のおそれのあるものとして厚生労働省令で指定する洗濯物を取り扱う場合においては、その洗濯物は他の洗濯物と区分しておき、これを洗濯するときは、その前に消毒すること。ただし、洗濯が消毒の効果を有する方法によってなされる場合においては、消毒しなくてもよい。

3 次のクリーニング業法に規定するクリーニング所を開設しようとする者が届出なければならない事項のうち、誤っているものを1つ選びなさい。

- ① クリーニング所開設の予定年月日
- ② クリーニング所の構造及び設備の概要
- ③ クリーニング所の休業日

4 次のクリーニング業法に規定する利用者に対する説明義務及び苦情の申出先の明示に関する記述のうち、正しいものを1つ選びなさい。

- ① クリーニング所においては、苦情の申出先となるクリーニング所の名称、所在地及び電話番号を店頭に掲示する必要がある。
- ② 営業者は、洗濯物の受取をしようとするときは、利用者に対し、洗濯物の処理方法等について説明するよう努めなければならないが、引渡しをしようとするときは、説明するよう努める必要はない。
- ③ 苦情の申出先を記載した書面を、当該クリーニング所の主たる営業地域の各戸に配布しなければならない。

5 次のクリーニング業法に規定するクリーニング師の設置に関する記述のうち、正しいものを1つ選びなさい。

- ① 営業者は、クリーニング所（洗濯物の受取及び引渡のみを行うものを含む。）ごとに、1人以上のクリーニング師を置かなければならない。
- ② 営業者がクリーニング師であって、自ら、主として一のクリーニング所においてその業務に従事するときは、当該クリーニング所については、他にクリーニング師を置かなくてもよい。
- ③ 営業者は、クリーニング所に2人以上のクリーニング師がいる場合、当該クリーニング所に管理クリーニング師を置く必要がある。

6 次のクリーニング業法に規定するクリーニング師の免許に関する記述のうち、誤っているものを1つ選びなさい。

- ① 免許証の再交付を申請した後、失った免許証を発見したときは、一月以内に免許を与えた都道府県知事に提出しなければならない。
- ② クリーニング師が死亡し、又は失そうの宣告を受けたときは、戸籍法に規定する届出義務者は、一月以内に免許証を免許を与えた都道府県知事に返納しなければならない。
- ③ クリーニング師は、その本籍又は氏名を変更したときは、10日以内に免許証の訂正の申請を免許を与えた都道府県知事にしなければならない。

7 次のクリーニング業法に規定するクリーニング師の研修及び業務従事者に対する講習に関する記述のうち、正しいものを1つ選びなさい。

- ① クリーニング所の業務に従事するクリーニング師は、5年を超えない期間ごとに都道府県知事が指定した研修を受けなければならない。
- ② 営業者は、クリーニング所の開設から1年以内に、従事者の中からその従事者の数に5分の1を乗じて得た数の者を選び、その者に対して講習を受けさせなければならない。
- ③ クリーニング所の業務に従事するクリーニング師が、クリーニング師の研修を受けた場合でも、業務従事者に対する講習を受けたものとはみなされない。

8 次のうち、クリーニング業法に規定する「クリーニング業」に該当するものの数を1つ選びなさい。

- ア. 洗い張り業
- イ. 貸しおしぼり業
- ウ. リネンサプライ業

- ① 1つ
- ② 2つ
- ③ 3つ

9 次のうち、クリーニング業法に規定する環境衛生監視員が行う立入検査に関する記述として、正しいものを1つ選びなさい。

- ① 苦情の申出先の明示の有無は、検査の対象となる。
- ② クリーニング師の設置状況は、検査の対象とならない。
- ③ 業務が多忙であるという理由で立入検査を拒否した場合、罰則はない。

10 次のうち、クリーニング業法に規定する「消毒を要する洗濯物」として、誤っているものを1つ選びなさい。

- ① 家庭で使用されたタオル
- ② 病院で療養のために使用されたシーツ
- ③ 健常者がスポーツ競技中に着用していたシャツ

公衆衛生に関する知識

1 次の日本国憲法第25条に関する記述について、の中に入る語句の組み合わせとして、正しいものを1つ選びなさい。

すべて国民は、健康で (ア) な最低限度の生活を営む権利を有する。国は、すべての生活部面について、 (イ)、社会保障及び (ウ) の向上及び増進に努めなければならない。

- | | (ア) | (イ) | (ウ) |
|---|-----|------|------|
| ① | 文化的 | 社会福祉 | 公衆衛生 |
| ② | 文化的 | 社会生活 | 生活衛生 |
| ③ | 社会的 | 社会生活 | 公衆衛生 |

2 次のセレウス菌に関する記述のうち、誤っているものを1つ選びなさい。

- ① セレウス菌が形成する芽胞は、熱やアルコールに弱い。
- ② 環境中に広く存在し、時に食中毒の原因菌となる場合がある。
- ③ 極端に抵抗力の弱い患者が感染した場合、極めてまれに菌血症などの起
因菌となり得る。

3 次の新型コロナウイルス感染症に関する記述のうち、誤っているものを1つ選びなさい。

- ① 主な症状は、発熱・鼻水・のどの痛み・咳といった上気道炎症状、嗅覚異常・味覚異常だが、無症状の場合もある。
- ② リネン類には新型コロナウイルスが付着することはないため、リネン類等を扱う場合は特に留意する事項はない。
- ③ 新型コロナウイルスの潜伏期間は変異株の出現により変動する。

4 次の水質汚濁防止法に関する記述のうち、正しいものを1つ選びなさい。

- ① 地下浸透によるテトラクロロエチレンの処理が認められている。
- ② テトラクロロエチレンの排水基準は1 mg/L 以下と定められている。
- ③ テトラクロロエチレンの使用方法について、管理要領を定めて点検を行い、その結果を点検表に記録し、3年間保存することが義務付けられている。

5 次のうち、令和3年のわが国における食中毒患者数が最も多い病因物質として正しいものを1つ選びなさい。

- ① ノロウイルス
- ② アニサキス
- ③ ウエルシュ菌

6 次の感染症と媒介昆虫の組み合わせのうち、誤っているものを1つ選びなさい。

- ① 重症熱性血小板減少症候群 (SFTS) — ダニ
- ② 日本脳炎 — ハエ
- ③ デング熱 — カ

7 次のプラスチックの資源循環に関する記述のうち、誤っているものを1つ 選びなさい。

- ① プラスチック資源循環促進法により、クリーニング業者でもプラスチックの3R（リデュース・リユース・リサイクル）＋リニューアブル（再生プラスチックやバイオマスプラスチックの利用）の取組みが求められる。
- ② マイバッグの利用を推奨することによるお持ち帰り袋の削減はリデュースにあたる。
- ③ プラスチックハンガーを再資源化することはリユースにあたる。

8 次の「クリーニング所における衛生管理要領（昭和57年旧厚生省通知）」に規定する指定洗濯物（クリーニング業法施行規則第1条に規定する消毒を要する洗濯物）の一般的な消毒方法に関する記述として、誤っているものを1つ 選びなさい。

- ① 蒸気がま等を使用し、100℃以上の湿熱に10分間以上触れさせる方法
- ② 80℃以上の熱湯に10分間以上浸す方法
- ③ 遊離塩素が5ppm以上の水溶液中に30℃以上で5分間以上浸す方法

9 次のわが国の令和3年人口動態統計に関する記述のうち、正しいものを1つ選びなさい。

- ① 死因の第1位は悪性新生物であり、第2位は心疾患であった。
- ② 合計特殊出生率は1.30で、前年より上昇した。
- ③ 婚姻件数は前年より減少しているが、離婚件数は前年に比べて増加した。

10 次のクリーニング所における感染症対策に関する記述のうち、誤っているものを1つ選びなさい。

- ① 洗濯前の委託物に触れる場合には、マスクとエプロンの着用と接触後の手洗いが重要である。
- ② 事業所内に手洗い施設を確保するとともに、消毒液を常備し、従業員に手洗いまたは手指消毒の徹底を図ることが重要である。
- ③ 全ての洗濯物には微生物汚染があり、その多くの微生物は乾燥状態を好むため、洗濯物は湿潤環境で保管すべきである。

洗たく物の処理に関する知識

1 次の繊維に関する記述のうち、誤っているものを1つ選びなさい。

- ① 綿の形状は細く扁平なりボン状で、自然のよじれがあり、繊維断面は中空である。
- ② 絹は、着用中の汗や摩擦によって毛羽立ちや変退色、スレ、輪ジミが発生しやすい。
- ③ ポリエステルは、ナイロンよりも染色性が優れている。

2 次のシミに関する記述のうち、正しいものを1つ選びなさい。

- ① シミ抜きは、油性処理、水溶性処理、酵素処理、酸化漂白処理、還元漂白処理の順に処理を進める。
- ② 水溶性のシミは、手触りが柔らかく、シミの周囲の輪郭は、はっきりしていないものが多い。
- ③ 水溶性のシミ抜きには、モノクロロベンゼン、シンナー、アセトン、酢酸アミルなどを使用する。

3 次の芯地に関する記述のうち、正しいものを1つ選びなさい。

- ① 完全接着芯地には、接着剤として、ポリエチレン系、エチレン酢酸ビニル系が使用される。
- ② 不織布芯地は、裁断がしやすく使いやすく安価であるが、伸縮性が乏しくドレープ性に欠けるのが難点である。
- ③ 接着芯地は、芯地の必要なほとんどの衣服に使用されており、フラシ芯地ともいう。

4 次の繊維加工に関する記述のうち、誤っているものを1つ選びなさい。

- ① ワッシャー加工とは、洗浄機の運転による揉み作用でジーンズやカジュアルウェアなどに着古し感を与えるための製品洗い加工である。
- ② 防水加工とは、布に水がしみて濡れることを防止する加工であるが、汗の水蒸気も通さないので蒸れる欠点がある。
- ③ フロック加工とは、酵素のセルラーゼを使用し、綿製品などの風合い改良を目的とした加工である。

5 次のテトラクロロエチレンに関する記述のうち、誤っているものを1つ選びなさい。

- ① 油脂溶解力が大きく、揮発しにくい特徴がある。
- ② 化学物質の審査及び製造等の規制に関する法律（化審法）の第2種特定化学物質に指定されている。
- ③ 樹脂を溶かしやすいため、付属品に注意が必要である。

6 ランドリー用助剤に関する記述のうち、誤っているものを1つ選びなさい。

- ① CMC（カルボキシメチルセルロース）は、再汚染防止効果が優れ、洗濯物の白さが向上する。
- ② メタ珪酸ナトリウムは、洗剤の洗浄力を著しく増強させる効果があるため、アルカリ助剤として洗剤と併用される。
- ③ 過炭酸ナトリウムは40℃以上で効果を発揮するが、分解されないため、生地を傷めやすい。

7 次のクリーニングの仕上げに関する記述のうち、誤っているものを1つ選びなさい。

- ① 仕上げに必要な3条件は、湿気、熱、圧力である。
- ② ドライ仕上げの最適な蒸気圧は5 MP a である。
- ③ 上ごて蒸気は、プレスをしながら蒸気をあてるので、生地のを張りを保ち、形を決める仕上げに適する。

8 次の織物とニットに関する記述のうち、正しいものを1つ選びなさい。




- ① 織物とは、たて糸とよこ糸が所定の組合わせ方式にしたがって、互いに上下に交差してつくられた布地のことである。
- ② ニットは、一般的に織物より型くずれしにくい。
- ③ ニットは、一般的に織物より伸縮性が小さい。


9 次の記述で説明している注意が必要な素材として、正しいものを1つ選びなさい。

「ナイロンの一種で、強度や難燃性、耐熱性に優れていることから、消防服や防弾チョッキなどに使用されているが、シワが残りやすい素材のため、洗濯後に手絞りの場合は弱く、遠心脱水機の場合は短時間で行う。」

- ① 塩化ビニル素材
- ② アラミド繊維
- ③ 金属繊維

10 次の「JIS L 0001」に規定する繊維製品の洗濯表示とその意味の組み合わせのうち、誤っているものを1つ選びなさい。

	JIS L 0001	意味
①		液温は、30°Cを限度とし、洗濯機で非常に弱い洗濯処理ができる。
②		酸素系漂白剤による漂白処理ができるが、塩素系漂白剤による漂白処理はできない。
③		洗濯処理後のタンブル乾燥処理ができる。 低温乾燥：排気温度の上限は最高60°C



令和4年度クリーニング師試験(学科)

解答用紙

受験番号	
------	--

氏名	
----	--

衛生法規に関する知識

公衆衛生に関する知識

洗たく物の処理に関する知識

1	③
2	②
3	③
4	①
5	②
6	①
7	②
8	②
9	①
10	③

各1点

1	①
2	①
3	②
4	③
5	①
6	②
7	③
8	③
9	①
10	③

各1点

1	③
2	①
3	②
4	③
5	①
6	③
7	②
8	①
9	②
10	③

各1点

1問1点 30問30点満点

令和4年度クリーニング師試験問題及び解答用紙（繊維鑑別試験）

受験番号	氏名

番号のついた繊維について、下の選択欄から正しいものを選びその名称を記入しなさい。

<解答欄>1問1点 5問5点満点

1	2	3	4	5
キュプラ	毛	綿	ナイロン	絹

<選択欄>

ポリエステル	絹	ナイロン	
アクリル	綿	キュプラ	毛

布片貼付け位置

※アイロンがけ試験は40点満点です。