

こたえと解説

表やグラフで比べると、
答えがはっきり見えるね。



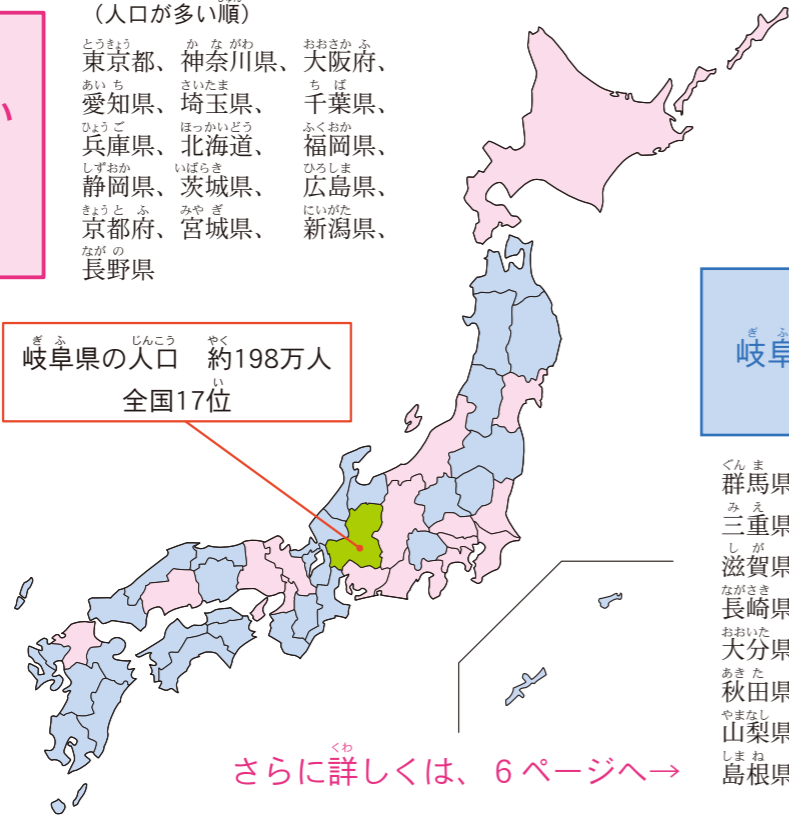
Q1 岐阜県の人口は、全国47都道府県の中で、多い方から何位？（令和2年）

人口が
岐阜県より多い
都道府県
【16都道府県】

（人口が多い順）

- 東京都、神奈川県、大阪府、
- 愛知県、埼玉県、千葉県、
- 兵庫県、北海道、福岡県、
- 静岡県、茨城県、広島県、
- 京都府、宮城県、新潟県、
- 長野県

岐阜県の人口 約198万人
全国17位



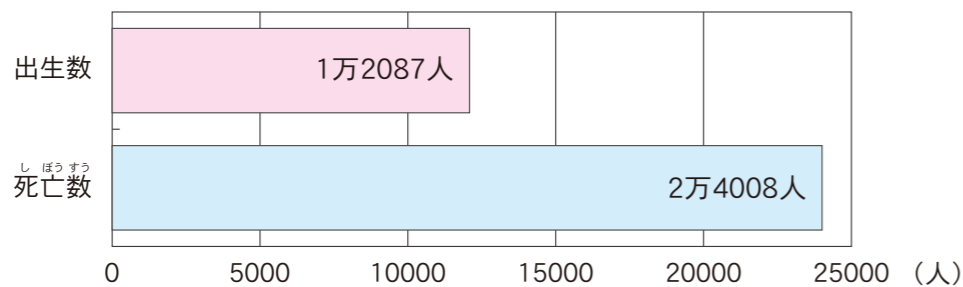
A1
②17位

人口が
岐阜県より少ない
都道府県
【30都道府県】

- 群馬県、栃木県、岡山県、福島県、
- 三重県、熊本県、鹿児島県、沖縄県、
- 滋賀県、山口県、愛媛県、奈良県、
- 長崎県、青森県、岩手県、石川県、
- 大分県、宮崎県、山形県、富山県、
- 秋田県、香川県、和歌山県、佐賀県、
- 山梨県、福井県、徳島県、高知県、
- 島根県、鳥取県

さらに詳しくは、6ページへ→

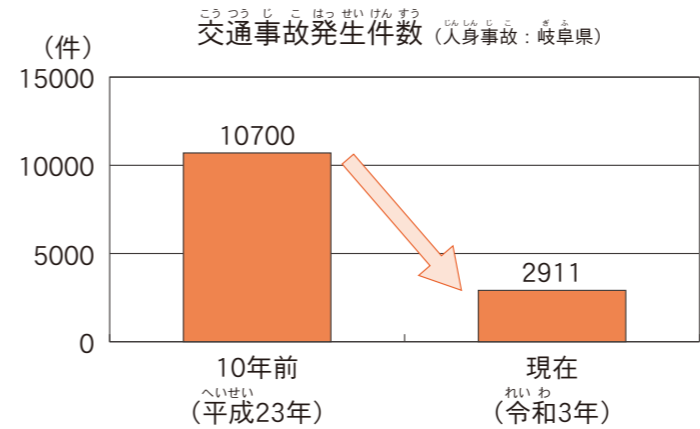
Q2 現在の岐阜県では、1年間で生まれた人の数と、死亡した人の数のどちらが多い？（令和3年）



A2
②死亡した人

さらに詳しくは、8ページへ→

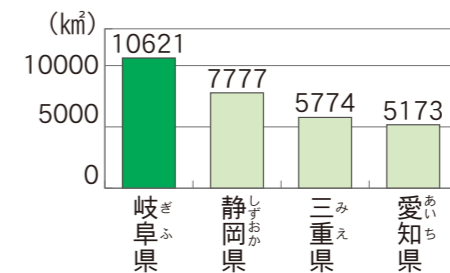
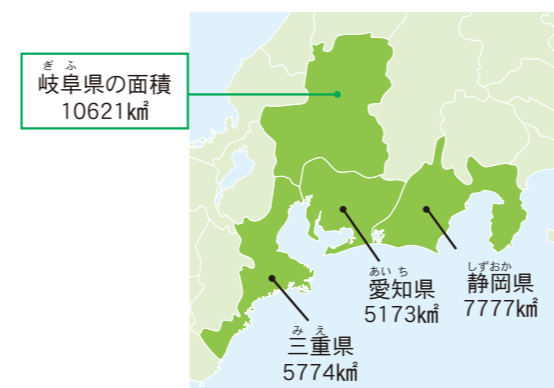
Q3 交通事故の年間発生件数は10年間でどれだけ減った？（令和3年）



A3
③ $\frac{1}{4}$

さらに詳しくは、11ページへ→

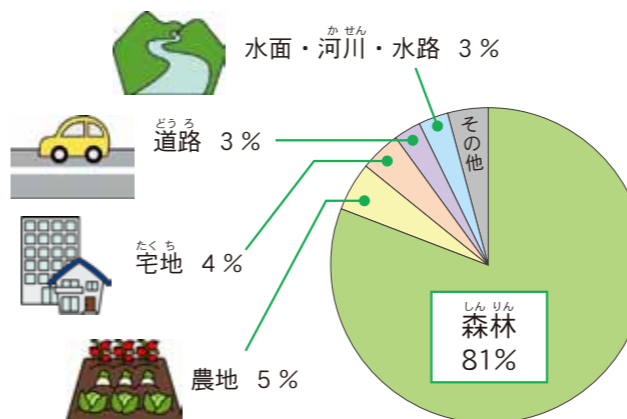
Q4 岐阜県、愛知県、三重県、静岡県の中で、一番面積が広いのはどこ？（令和3年）



A4
①岐阜県

さらに詳しくは、12ページへ→

Q5 岐阜県の土地の使われ方のうち、一番面積が広いのは、どんな土地？（令和2年）



A5
②森林

さらに詳しくは、12ページへ→