

受験番号	氏名

令和3年度

## クリーニング師試験学科問題


令和3年11月7日(日)

指示があるまで開いてはいけません

岐 阜 県

### 受 験 の 際 の 注 意 事 項

1. 試験問題は、「衛生法規に関する知識」、「公衆衛生に関する知識」、「洗たく物の処理に関する知識」の3科目で、全部で30問あります。
2. 試験問題は、表紙を除き15ページありますので確認してください。
3. 解答時間は1時間です。
4. はじめに、解答用紙の上欄に受験番号、氏名を記入してください。
5. 解答については、設問中の指示に従い、解答用紙に番号を記入してください。
6. 解答用紙は持ち帰らないでください。
7. 問題用紙は持ち帰ってもかまいません。ただし、問題に関する問い合わせには一切お答えできません。



## 衛生法規に関する知識

1 次のクリーニング業法に規定するクリーニング業法の目的に関する記述のうち、正しいものを1つ選びなさい。

- ① クリーニング業の経営者の利益の擁護を図る。
- ② クリーニング業の経営を公共の福祉に適合させる。
- ③ クリーニング業に対して、社会通念上の観点から、必要な指導及び取締りを行う。

2 次のうち、クリーニング業法に規定する「クリーニング業」に該当するものとして、正しいものを1つ選びなさい。

- ① 洗たく機、乾燥機等の洗たくに必要な設備を設け、これを公衆に利用させる営業
- ② 着物を解いて反物の状態に戻して洗たくし、仕立て直しを行う営業
- ③ 繊維製品を使用させるために貸与し、その使用済み後はこれを回収して洗たくし、さらにこれを貸与することを繰り返して行う営業

3 次のクリーニング業法に規定する営業者の衛生措置等に関する記述のうち、誤っているものを1つ選びなさい。

- ① 洗場については、床が、浸透性材料で築造されていること。
- ② 営業者は、洗たく物の洗たくをするクリーニング所に、業務用の機械として、洗たく機及び脱水機をそれぞれ少なくとも一台備えなければならない。ただし、脱水機の効用をも有する洗たく機を備える場合は、脱水機は、備えなくてもよい。
- ③ 洗濯物を洗濯又は仕上げを終わったものと終わらないものに区分しておくこと。

4 次のクリーニング業法に規定するクリーニング師の設置及び営業者の届出に関する記述のうち、正しいものを1つ選びなさい。

〔（注）「地域保健法」に基づく政令で定める市又は特別区については、この問題中の「都道府県知事」は「市長又は区長」と読み替える。〕

- ① 営業者は、クリーニング所ごとに、二人以上のクリーニング師を置かなければならない。
- ② クリーニング所を開設した者は、開設後直ちに、都道府県知事に届け出なければならない。
- ③ 届け出た事項に変更が生じた場合は、速やかに都道府県知事に届け出なければならない。

5 次のクリーニング業法に規定する利用者に対する説明義務及び苦情の申出先の明示に関する記述のうち、誤っているものを1つ選びなさい。

- ① クリーニング所においては、苦情の申出先となるクリーニング所の営業者の氏名、住所及び電話番号を掲示しなければならない。
- ② 営業者は、洗濯物の受取及び引渡しをしようとするときは、あらかじめ、利用者に対し、洗濯物の処理方法等について説明するよう努めなければならない。
- ③ 苦情の申出先の情報は、クリーニング所の店頭に掲示しておくとともに、洗たく物の受取及び引渡しをしようとする際に、掲示事項を記載した書面を配布する必要がある。

6 次のクリーニング業法に規定するクリーニング師の免許に関する記述のうち、正しいものを1つ選びなさい。

- ① クリーニング師は、その本籍又は氏名を変更したときは、30日以内に、免許証の訂正の申請を免許を与えた都道府県知事にしなければならない。
- ② 都道府県知事は、クリーニング師がクリーニング業に関し犯罪を犯して罰金以上の刑に処せられたときは、その免許を取り消すことができる。
- ③ クリーニング師の免許を受けようとする者は、本籍地の都道府県知事に申請しなければならない。

7 次のクリーニング業法に規定するクリーニング師の研修及び業務従事者に対する講習に関する記述のうち、誤っているものを1つ選びなさい。

- ① クリーニング所の業務に従事するクリーニング師は、業務に従事した後6か月以内にクリーニング師の研修を受けなければならない。
- ② クリーニング所の業務に従事するクリーニング師は、クリーニング所の業務に従事した後の最初の研修を受けた後、3年を超えない期間ごとに研修を受けるものとする。
- ③ クリーニング所の業務に従事するクリーニング師は、クリーニング師の研修を受けたことにより、業務従事者に対する講習を受けた者とみなされる。

8 次のうち、クリーニング業法に規定する「消毒を要する洗たく物」として、誤っているものを1つ選びなさい。ただし、いずれも営業者に引き渡される前に消毒されていない洗濯物とする。

- ① 健康な人が使用したパンツ
- ② 家庭で使用した手ぬぐい
- ③ ホテルで使用された寝具

9 次のクリーニング業法に規定する環境衛生監視員が行う立入検査に関する記述のうち、正しいものを1つ選びなさい。

- ① 立入検査を行う際は、営業者に10日前までに通知しなければならない。
- ② クリーニング所並びに業務用の機械及び器具を清潔に保っているかについて立入検査を行うことができる。
- ③ 業務が多忙であるという理由で立入検査を拒否した場合、罰則はない。

10 次の廃棄物の処理及び清掃に関する法律に関する記述のうち、誤っているものを1つ選びなさい。

- ① テトラクロロエチレン等を含む汚泥（特別管理産業廃棄物に該当するもの）を排出するクリーニング所には、特別管理産業廃棄物管理責任者を置かなければならない。
- ② クリーニング所の事業活動で使用したプラスチックハンガーをクリーニング所が廃棄する場合は、一般廃棄物に該当する。
- ③ 産業廃棄物の運搬又は処分を他人に委託する場合、産業廃棄物を引き渡すときに、運搬又は処分を受託した者に対して、産業廃棄物管理票（マニフェスト）を交付しなければならない。

## 公衆衛生に関する知識

1 WHO憲章について、の中に入る語句の組み合わせとして、正しいものを1つ選びなさい。

健康とは、肉体的、精神的及びに完全によい状態にあることであり、単に疾病又は虚弱でないということではない。及ぶ限り最高のを享受することは、人種、、政治的信条、経済状態のいかんを問わず、すべての人間の基本的権利である。

	(ア)	(イ)	(ウ)
①	社会的	健康水準	宗教
②	個人的	生活水準	職業
③	社会的	健康水準	職業

2 次のウイルス及びその感染症に関する記述のうち、誤っているものを1つ選びなさい。

- ① ノロウイルスの消毒には、次亜塩素酸ナトリウムが有効である。
- ② 従業者や経営者の家族がインフルエンザを発症した場合、当人に症状がない場合でも必ず休まなければならない。
- ③ ノロウイルスに感染すると、症状がなくなっても、通常では1週間程度、長いときは1か月程度ウイルスの排泄が続くことがある。



3 次のテトラクロロエチレンに関する記述のうち、誤っているものを1つ選  
びなさい。

- ① テトラクロロエチレンによるドライクリーニング機（密閉式のものを除く）であって、処理能力が1回あたり30kg以上のものを有する施設は、大気汚染防止法に基づく規制の対象となる。
- ② 土壤汚染対策法では、テトラクロロエチレンを使用していた施設の使用廃止の時点において、土地の所有者などは、土壤汚染の調査を実施してその結果を都道府県知事（政令指定都市、中核市及び土壤汚染対策法施行令に定める市にあってはその長）に報告しなければならない。
- ③ テトラクロロエチレンは、労働安全衛生法に基づく「特定化学物質障害予防規則」の対象物質ではない。

4 次のうち、地域保健法で定められている保健所の業務として、誤っているもの  
を1つ選びなさい。

- ① 国民健康保険に関する事項
- ② 精神保健に関する事項
- ③ 衛生上の試験及び検査に関する事項

5 次のうち、食中毒の原因菌として、誤っているものを1つ選びなさい。

- ① サルモネラ属菌
- ② 腸管出血性大腸菌
- ③ 結核菌

6 次の生活習慣病に関する記述のうち、正しいものを1つ選びなさい。

- ① 慢性閉塞性肺疾患（COPD）の主な原因は飲酒である。
- ② 糖尿病は1型と2型に分けられ、1型の発症には運動や食事などの生活習慣が大きく関連している。
- ③ LDL コレステロールが高くなると、心筋梗塞のリスクは上昇する。

7 次のうち、公害病である水俣病の主な原因物質として、正しいものを1つ選びなさい。

- ① メチル水銀
- ② カドミウム
- ③ 硫黄化合物

8 次の皮膚疾患に関する記述のうち、誤っているものを1つ選びなさい。

- ① 疥癬は、ダニの一種であるヒゼンダニがヒトの皮膚に寄生して生ずる。
- ② 白癬は、カンジダ属の真菌によって生ずる。
- ③ 伝染性膿痂疹は、ブドウ球菌や溶血性連鎖球菌などの菌によって生ずる。

9 次のうち、衣類の害虫に該当しないものを1つ選びなさい。

- ① ヒメマルカツオブシムシ
- ② ツツガムシ
- ③ コイガ

10 次のPRTR制度（化学物質排出移動量届出制度）に関する記述のうち、正しいものを1つ選びなさい。

- ① 有害性のある多種多様な化学物質が、どのような発生源から、どのくらい環境中に排出されたのか、あるいは廃棄物等に含まれて事業所の外に運び出されたのか、というデータを把握して、それを集計し、公表する仕組みである。
- ② 事業者として常時雇用者数21人以上で第一種指定化学物質の年間取扱量が50kg以上であるクリーニング所は届出の対象となる。
- ③ 第一種指定化学物質には放射性物質も含まれる。

## 洗たく物の処理に関する知識

1 次の綿の特徴に関する記述のうち、誤っているものを1つ選びなさい。

- ① 丈夫で、吸湿・吸水性、保温性、耐熱性、耐洗濯性がよく、衣料品の素材として幅広く使われている。
- ② 繊維長は平均して1.5～4.0 cm と麻や羊毛に比べて短い。
- ③ 断面は六角形に近い多角形状で、中空孔を持っており、側面に横筋や節がある。

2 次の繊維とその分類の組み合わせのうち、正しいものの数を1つ選びなさい。

(繊維)		(分類)
ア. レーヨン	——	再生繊維
イ. アセテート	——	半合成繊維
ウ. ナイロン	——	半合成繊維
エ. ビニロン	——	合成繊維

- ① 2つ
- ② 3つ
- ③ 4つ

3 次の繊維加工に関する記述のうち、誤っているものを1つ選びなさい。

- ① エンボス加工は、未染色の綿糸や綿織物を緊張状態で水酸化ナトリウム濃厚液により処理する加工であり、絹様の光沢と強度及び染色性の向上の効果がある。
- ② ラミネート加工は、布に薄いポリウレタンなどのフィルムやシートなどを貼り合わせる加工である。
- ③ モアレ加工は、絹、レーヨン、アセテートなどのフィラメント織物に、木目や波形、あるいは雲状の模様をつける加工であり、水洗いやスチームで模様が消失しやすい。

4 次の素材に関する記述のうち、正しいものを1つ選びなさい。

- ① アクリル系繊維を使用した人工毛皮は、熱による収縮、変形を起こしにくい。
- ② 塩化ビニル素材を使用した衣類は、一般的にドライクリーニングができる。
- ③ ストレッチ素材を使用した衣類は、タンブラー乾燥時に高温で回転させたり、蒸気アイロンを高温で、かつ加圧を強くすると変形しやすい。

5 次の汚れ、シミに関する記述のうち、誤っているものを1つ選びなさい。

- ① 水溶性汚れには、汗、尿、果汁、アルコールなどが含まれる。
- ② 水溶性のシミは、霧吹きで霧をかけると、シミよりも生地の方が水分を早く吸収する。
- ③ 油性のシミ抜きには、モノクロロベンゼン、シンナー、アセトン、酢酸アミルなどを使用する。

6 次のドライクリーニング溶剤に関する記述のうち、正しいものを1つ選びなさい。

- ① 石油系溶剤は、油脂溶解力が小さく、比重が軽いので、ソフト洗いに適している。
- ② テトラクロロエチレンは、油脂溶解力が大きく、可燃性である。
- ③ 溶剤の沸点が高いほど、低温で蒸発乾燥できる。

7 次のボタンに関する記述のうち、誤っているものを1つ選びなさい。

- ① エポキシボタンは接着性に優れ、注型・注入材としての使用が多い。
- ② アクリルボタンは熱に弱いので、直接アイロンにあてない。
- ③ ナイロンボタンは強度が低く割れやすいが、耐熱度は高い。

8 次の毛皮及び皮革のクリーニングに関する記述のうち、誤っているものを1つ選びなさい。




- ① 毛皮は熱に弱いので、仕上げは裏地にのみアイロンをかけ、表はブラッシングあるいはグレイジングマシン（艶出し回転ロール）で毛並みを整える。
- ② 皮革は染色堅ろう度が強く、クリーニングで脱色しにくい。
- ③ 皮革製品は、高温で湿度の高い夏期はカビが生えやすい。




9 次の界面活性剤に関する記述のうち、正しいものを1つ選びなさい。

- ① 固形粒子を水あるいは油の中に均一安定に分散する働きがある。
- ② アニオン（陰イオン）系とカチオン（陽イオン）系を併用すると、洗浄効果が上昇する。
- ③ 水の界面張力を上昇させることにより、洗濯物を濡れやすくする働きがある。

10 次の「JIS L 0001」に規定する繊維製品の洗濯表示とその意味の組み合わせのうち、誤っているものを1つ選びなさい。

	表示記号	意味
①		ドライクリーニング処理ができない。
②		平干し乾燥がよい。
③		底面温度 150℃を限度としてアイロン仕上げ処理ができる。







令和3年度クリーニング師試験(学科)

解答用紙

受験番号	
------	--

氏名	
----	--

衛生法規に関する知識

公衆衛生に関する知識

洗たく物の処理に関する知識

1	②
2	③
3	①
4	③
5	①
6	②
7	①
8	③
9	②
10	②
	各1点

1	①
2	②
3	③
4	①
5	③
6	③
7	①
8	②
9	②
10	①
	各1点

1	③
2	②
3	①
4	③
5	②
6	①
7	③
8	②
9	①
10	②
	各1点

1問1点 30問30点満点

令和3年度クリーニング師試験問題及び解答用紙（繊維鑑別試験）

受験番号	氏名

番号のついた繊維について、下の選択欄から正しいものを選びその名称を記入しなさい。

<解答欄>1問1点 5問5点満点

1	2	3	4	5
毛	絹	ナイロン	ポリエステル	綿

<選択欄>

ポリエステル	絹	ナイロン	
アクリル	綿	キュプラ	毛

布片貼付け位置
---------

※アイロンがけ試験は40点満点です。